

الوحدة الأولى والرابعة فرع الجغرافيا: الموارد الطبيعية والأنشطة الاقتصادية + التلوث

اليوم:	العنوان : تدريبات علاجية	التاريخ/...../2023 م
--------------	--------------------------	----------------------------

1- وصى (أ) وما يناسبها من (ب) فى الجمل الآتية :-

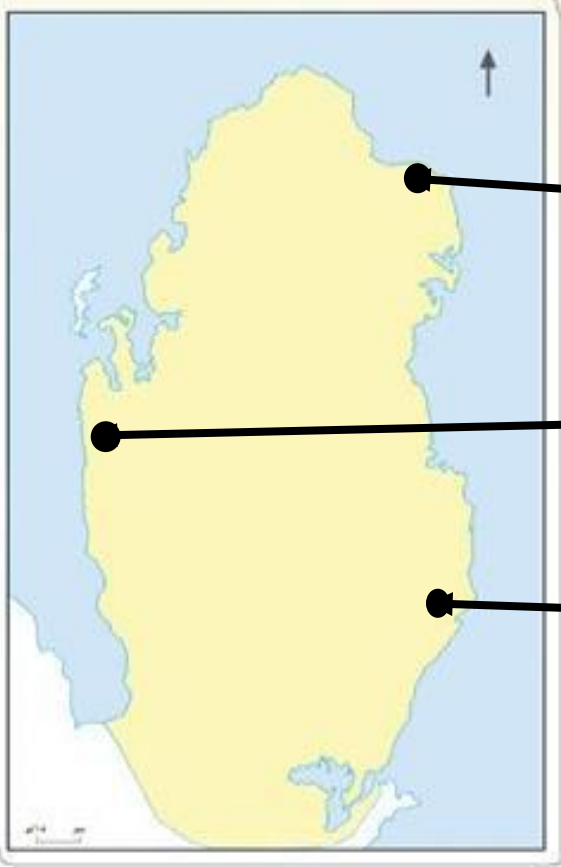
الرقم	(أ)	(ب)
أ-	انتقال الافراد من مكان لآخر داخل الدولة أو خارجها.	التجارة
ب-	تبادل المنتجات الاقتصادية المختلفة عن طريق البيع والشراء.	السياحة
ج-	تحويل المواد الخام الحيوانية أو المعدنية إلى منتجات أكثر نفعًا للإنسان.	الصناعة
		الزراعة

2- صل بين القائمة (أ) وما يناسبها من القائمة (ب) فى الجمل الآتية :-

الرقم	(أ)	(ب)
أ-	تقع مزرعة الابقار فى دولة قطر بمنطقة.	أم قرن
ب-	توجد مزرعة الدواجن فى دولة قطر بمدينة.	الركية
ج-	يقع مصنع الأسمدة فى دولة قطر بمدينة.	مسيعيد
		دخان

سأ امامك خريطة دولة قطر، اكتب المدن الصناعية حسب الأرقام المشار إليها.

(ام باب - مسيعيد - رأس لفان)



.....

.....

.....

اختر الإجابة الصحيحة بوضع علامة × في المربع المقابل:-

أي من الآتي يعد من محاصيل الزراعة المكشوفة ؟

- البصل.
- الخيار.
- الفلفل.
- الطماطم.

"انتشار الملوثات في البيئة، وإلحاق الضرر بها" يشير التعريف السابق الى مفهوم:

- التلوث.
- تلوث الهواء.
- النظام البيئي.
- استنزاف الموارد الطبيعية.

يقصد بعملية تبادل المنتجات الاقتصادية المختلفة عن طريق البيع والشراء:-

- الرعي
- التجارة
- الزراعة
- الصناعة

2- اذكر أسباب تلوث الهواء .

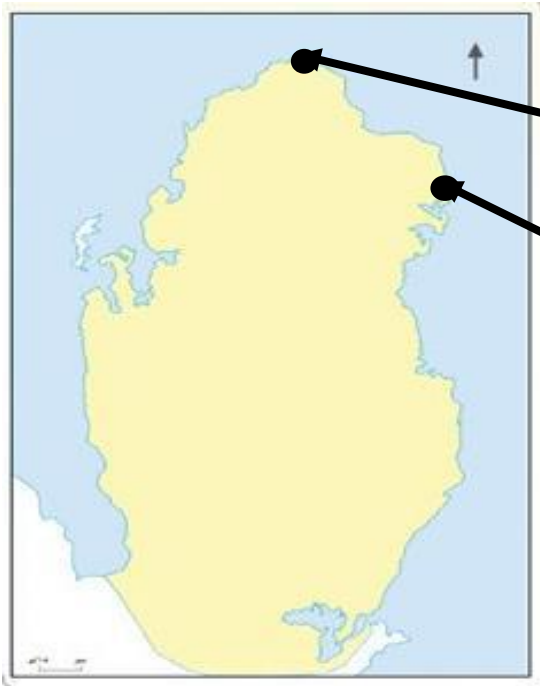
- 1-
- 2-
- 3-

3- عدد انواع الموارد الغير متجددة.

- أ-
- ب-
- ج-

١ امامك خريطة دولة قطر، اكتب موانئ الصيد حسب الأرقام المشار إليها.

(الرويس - الذخيرة)



.....

.....

الوحدة الثانية والخامسة فرع التاريخ: الدرس الأول + الثاني

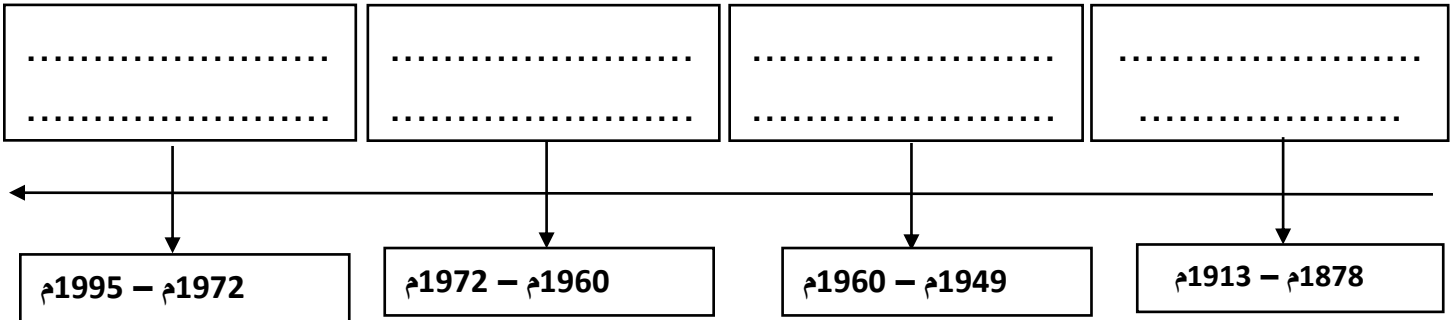
التاريخ/...../2023 م

العنوان : تدريبات علاجية

اليوم:

- رتب على الخط الزمني حكام دولة قطر بحسب فترات الحكم تسلسل زمني صحيح.

(الشيخ علي بن عبدالله - الشيخ جاسم بن محمد - الشيخ خليفة بن أحمد - الشيخ أحمد بن علي)



اختر الإجابة الصحيحة بوضع علامة × في المربع المقابل:-

أنشأ الشيخ علي بن عبدالله آل ثاني مستشفى :

الخور.

الوكرة.

الرميلة.

الريان القديم.

تلقى الشيخ حمد بن خليفة آل ثاني تعليمه الثانوي في مدارس:

قطر

فرنسا

بريطانيا

المانيا

أول شحنة نفط من ميناء مسيعيد تم تصديرها في عهد الشيخ:

محمد بن ثاني

جاسم بن محمد آل ثاني

علي بن عبدالله آل ثاني

عبدالله بن جاسم آل ثاني

4- اذكر إنجازات الشيخ خليفة بن حمد آل ثاني .

د-

هـ-

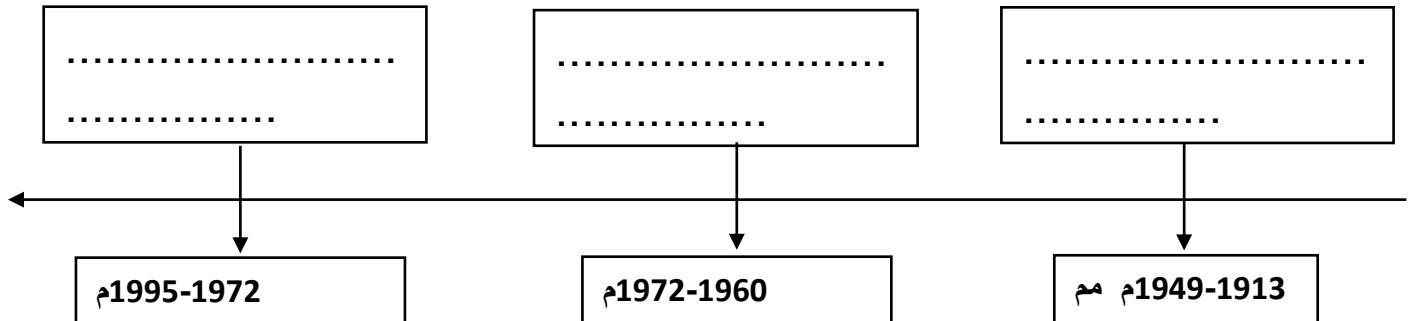
و-

2- عدد جهود دولة قطر في دعم القضايا العربية والعالمية.

أ-

ب-

رتب على الخط الزمني حكام دولة قطر بحسب فترات الحكم تسلسل زمني صحيح.
(الشيخ أحمد بن علي آل ثاني - الشيخ عبدالله بن جاسم - الشيخ خليفة بن حمد آل ثاني)



2- صنف إنجازات الشيخ حمد بن خليفة ال ثاني كما في الجدول التالي:

(أصبحت قطر أكبر مصدر للغاز المسال - فوز قطر باستضافة كأس العالم 2022م)

انجاز رياضي	انجاز اقتصادي
.....

ضع علامة (✓) أو علامة (x) أمام الجمل الآتية :-

() (تولى الشيخ علي بن عبدالله ال ثاني حكم البلاد عام 1972م.

() (تم تصدير أول شحنة نفط من ميناء مسعيد.

() (ولد الشيخ تميم بن حمد ال ثاني في مدينة الوكرة .

() (أصبحت قطر دولة مستقلة عام 1975م.

الوحدة الثالثة والسادسة فرع المواطنة: الدرس الأول + الثاني

اليوم:	العنوان : تدريبات علاجية	التاريخ/...../2023 م
--------------	--------------------------	----------------------------

أكمل الفراغات التالية بكلمات مناسبة مما بين القوسين:-

- 1- مجموعة من الامتيازات التي يتمتع بها الفرد وتضمن له العيش الكريم.....
- 2- تقوم العلاقة بين الحقوق والواجبات على مبدأ
- 3- أفعال يجب على الفرد القيام بها تجاه الوطن والمجتمع

1- ضع علامة (✓) أو علامة (x) أمام الجمل الآتية :-

- () يتحقق الانتماء للوطن بالعمل المستمر .
- () الوطن هو المكان الذي نعيش فيه وننتمي اليه ونشعر فيه بالأمان
- () المواطنون متساوون في الحقوق والواجبات العامة
- () يتضمن الدستور القطري مواد تنص على حماية البيئة .
- () يتوزع المواطنون على مناطق مختلفة في الدولة.

"أفعال يجب على الفرد القيام بها تجاه الوطن والمجتمع" يشير التعريف السابق الى

مفهوم:

الوطن.

المواطن.

الحقوق.

الواجبات.

3- اذكر الخدمات التعليمية التي تقدمها دولة قطر .

أ-

ب-

2- عدد أركان الدولة .

أ-

ب-

3- اذكر مظاهر الانتماء الوطني.

أ-

.....

4- عدد واجبات الفرد تجاه وطنه.

ج-

د-

